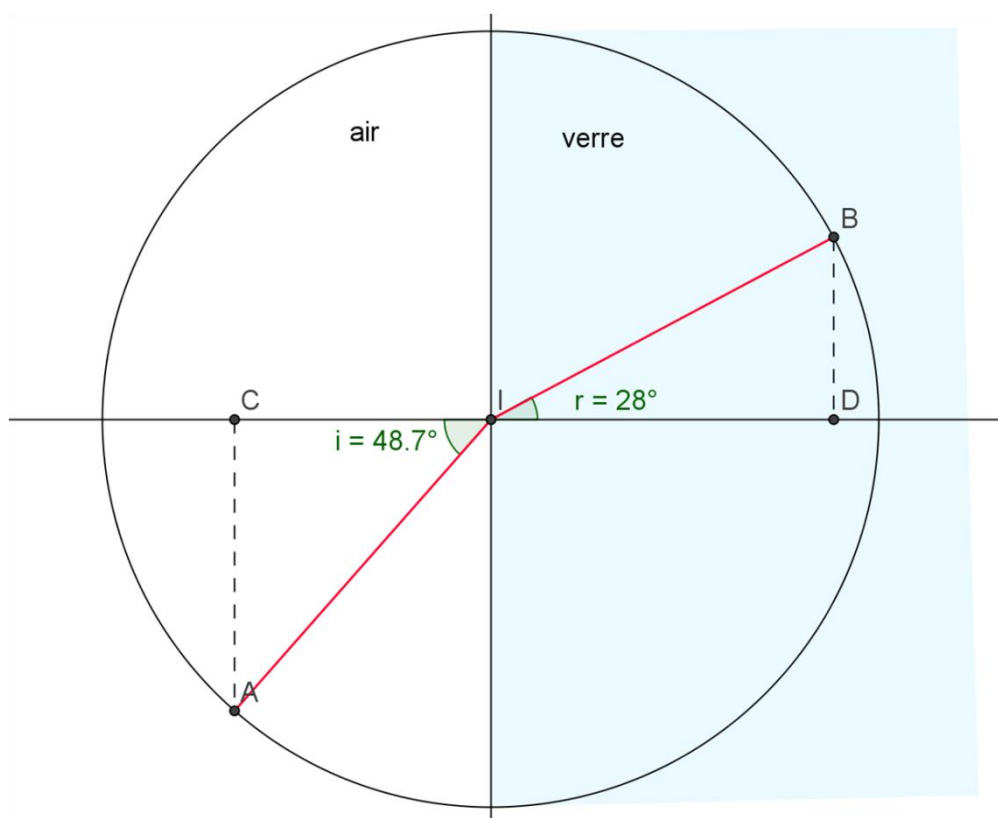


## Devoir sur table : Réfraction

### Première partie : Mesure d'un indice de réfraction par deux méthodes

Un rayon lumineux rouge se réfracte en un point incident I passant d'un milieu 1 formé d'air à un milieu 2 formé d'un verre dont l'indice de réfraction pour la couleur considérée noté  $n$  est inconnu. On se propose de mesurer ce dernier à partir de l'observation expérimentale donnée sur la figure qui suit.



- 1) Énoncer les deux lois de Snell-Descartes pour la réfraction et en donner la formule dans la situation précédente (On ne fera apparaître que des lettres dans la formule, donc pas de valeur numérique)
- 2) En considérant le triangle ACI rectangle en C, rappeler la formule du sinus de l'angle  $i = \widehat{AIC}$  puis faire de même pour le sinus de l'angle  $r = \widehat{BID}$ .
- 3) Justifier alors que l'on a :

$$\frac{\sin(i)}{\sin(r)} = \frac{AC}{BD}$$

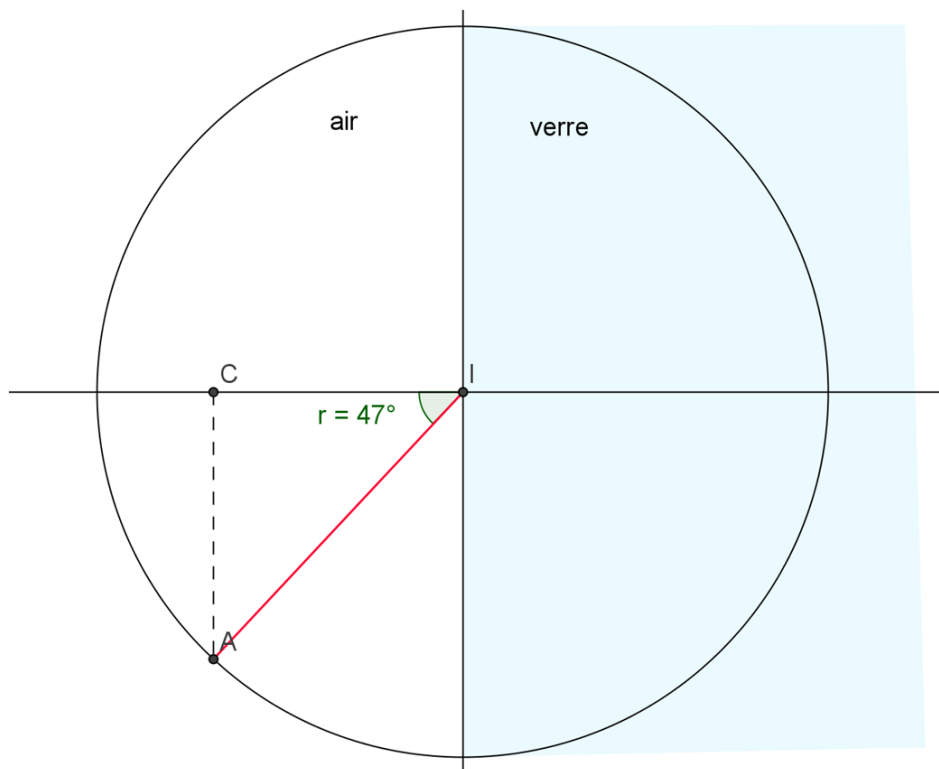
- 4) Mesurer à la règle le plus précisément possible AC et BD et en déduire une valeur approchée de l'indice de réfraction  $n$  pour la couleur considérée.
- 5) Retrouver une valeur semblable de cet indice par le calcul en utilisant non pas les mesures de AC et BD cette fois-ci, mais les mesures d'angles données sur la figure.
- 6) Représenter qualitativement sur la figure ci-dessus l'allure du rayon réfracté que donnerait un rayon incident de couleur bleue arrivant sous la même incidence que le rayon précédent

(c'est-à-dire avec un angle incident  $i = 48,7^\circ$ ). Faire de même pour un rayon de couleur,jaune, puis verte, et enfin bleue.

7) Compléter la phrase : Plus un rayon est dévié, plus sa longueur d'onde est ...

### Deuxième partie : Tracé d'un rayon incident par deux méthodes

On reprend la situation de la première partie où un rayon lumineux se réfracte en un point incident I mais cette fois ci, le milieu incident est le verre dont l'indice de réfraction pour la couleur considérée est connu de valeur  $n = 1,5$ , et le milieu de réfraction est l'air.



- 1) Expliquer comment construire à la règle et au compas le rayon incident, sachant que le rayon réfracté (IA sur la figure) a un angle de réfraction de  $47^\circ$ . Faire apparaître ce dernier sur le dessin en laissant les traits de construction
- 2) Quelle loi permet de calculer l'angle incident ? Calculer alors cet angle et vérifier à l'aide d'un rapporteur que l'angle incident mesuré sur le dessin à partir de la construction de la question 1 correspond bien à l'angle calculé.
- 3) Calculer l'angle incident d'un rayon qui donnerait dans l'air un rayon réfracté dont l'angle de réfraction est  $r = 90^\circ$ . Représenter sur la figure le (ou les) rayons incidents correspondants à cette situation et dire ce qu'il adviendrait d'un rayon incident ayant un angle d'incidence supérieur à cette valeur.

**Correction :**

**Première partie**

1) 1<sup>ère</sup> loi de Snell Descartes

Un rayon monochromatique se présentant en un point de l'interface entre deux milieux transparents subit une déviation appelée réfraction. Le rayon réfracté se trouve dans le plan formé par le rayon incident et la perpendiculaire (appelée normale) au plan tangent à la surface au point d'entrée du rayon.

2<sup>ème</sup> loi de Snell-Descartes :

Si on désigne par  $n_1$  l'indice de réfraction dans le milieu d'incidence et  $n_2$  l'indice de réfraction dans le milieu de réfraction, les deux indices étant donnés pour une même radiation monochromatique, alors, l'angle  $i_1$  que fait le rayon incident avec la normale et l'angle  $i_2$  que fait le rayon réfracté avec la normale sont liés par la relation :

$$n_1 \sin(i_1) = n_2 \sin(i_2)$$

Dans le cas de la figure, nous avons :

$$n_1 = 1, i_1 = i, n_2 = n, i_2 = r$$

La loi de Snell-Descartes s'écrit alors :

$$\sin(i) = n \sin(r)$$

Soit encore :

$$\frac{\sin(i)}{\sin(r)} = n$$

- 2) Le sinus d'un angle est dans un triangle rectangle le rapport du côté opposé à l'hypoténuse, ce qui donne pour le triangle ACI :

$$\sin(i) = \frac{AC}{AI}$$

et pour le triangle BDI

$$\sin(r) = \frac{BD}{BI}$$

- 3) Les relations précédentes conduisent à :

$$\frac{\sin(i)}{\sin(r)} = \frac{AC}{AI} \div \frac{BD}{BI} = \frac{AC}{AI} \times \frac{BI}{BD} = \frac{AC}{BD}$$

4) Les mesures donnent au millimètre près :

$$AC = 4,0 \text{ cm}, \quad BD = 2,5 \text{ cm}$$

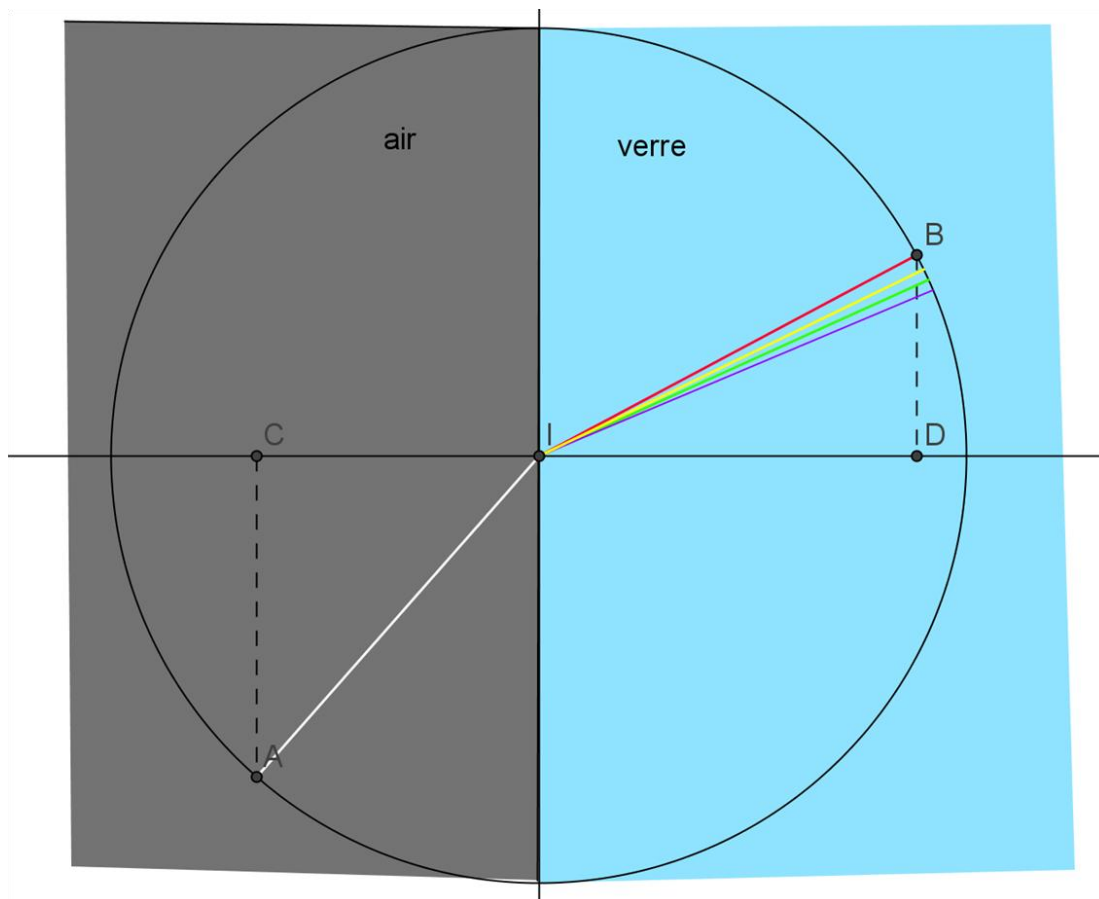
$$n = \frac{AC}{BD} = \frac{4}{2,5} = 1,6$$

5) Avec les angles, cela donne :

$$n = \frac{\sin(i)}{\sin(r)} = \frac{\sin(48,7^\circ)}{\sin(28^\circ)} = 1,6$$

Nous retrouvons bien la même valeur.

6) Pour un rayon incident qui serait la superposition de rayons monochromatiques rouge, jaune, vert et bleu, donc qui serait de couleur blanche dans le milieu incident, voilà l'allure des rayons réfractés



7) Plus un rayon est dévié, plus sa longueur d'onde est petite

## Deuxième partie

1) Nous avons vu en première partie que :

$$n = \frac{AC}{BD}$$

et nous connaissons  $n$  et  $AC$ . Il nous faut alors déterminer  $BD$ .

Or :

$$n \times BD = AC$$

donc :

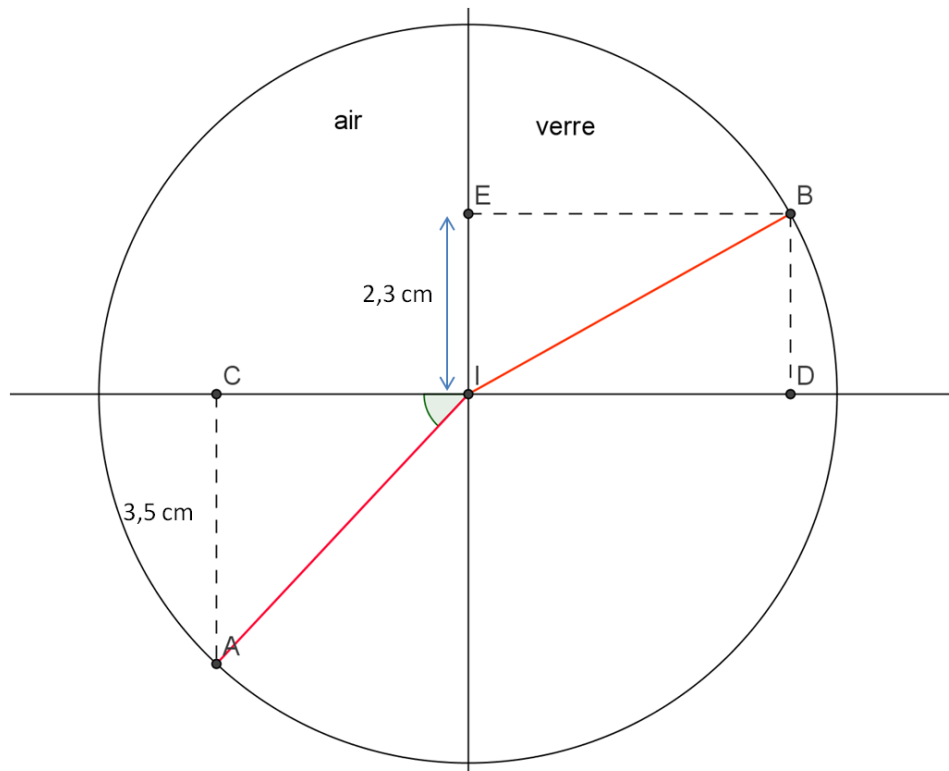
$$BD = \frac{AC}{n}$$

La mesure de  $AC$  sur le dessin donne 3,5 cm. Sachant que  $n = 1,5$  on en déduit :

$$BD = \frac{3,5}{1,5} \approx 2,3 \text{ cm}$$

On procède alors ainsi pour la construction du rayon réfracté :

- On porte un point  $E$  à 2,3 cm du point  $I$  comme indiqué sur la figure
- La parallèle à la normale passant par  $E$  coupe alors le cercle en un point  $B$
- Le rayon réfracté est alors le rayon partant du point  $I$  et passant par  $B$



2) La seconde loi de Snell-Descartes permet de calculer l'angle de réfraction. Elle s'écrit :

$$1 \sin(r) = n \sin(i)$$

Soit :

$$\sin(i) = \frac{\sin(r)}{n}$$

numériquement :

$$\sin(i) = \frac{\sin(47^\circ)}{1,5} \approx 0,488$$

donc :

$$i \approx \sin^{-1}(0,488) \approx 29,2^\circ$$

On peut vérifier sur la figure au rapporteur.

3) Si  $r = 90^\circ$  on a alors :

$$\sin(90^\circ) = 1,5 \times \sin(i)$$

soit :

$$\sin(i) = \frac{1}{1,5} \approx 0,667$$

$$i \approx \sin^{-1}(0,667) \approx 41,8^\circ$$

Il y a deux rayons symétriques par rapport à la normale qui correspondent à cette situation (un est représenté en trait continu rouge, l'autre en trait pointillé rouge sur la figure). Un rayon incident dont l'angle d'incidence est supérieur à  $41,8^\circ$  ne donnera pas de rayon réfracté mais seulement un rayon réfléchi.

